



COMPLETA LA SEQUENZA NUMERICA.


10 20

PRECEDENTE E SUCCESSIVO

INSERISCI IL NUMERO CHE VIENE **PRIMA** E IL NUMERO CHE VIENE **DOPO**.

_____  _____

_____  _____

_____  _____

UNISCI OGNI SOLE NELL'ORDINE ESATTO COME NELL'ESEMPIO.

